

# Physikalische Simulation eines balancierenden planaren humanoiden Roboters

Die Abgabe erfolgt bis 09.01.2006 in schriftlicher Form.  
Bei Fragen stehen wir jederzeit per EMail zu Verfügung:

Heinrich Mellmann    mellmann@informatik.hu-berlin.de  
Manfred Hild         hild@informatik.hu-berlin.de

Weitere Hinweise, das Material aus der Übung, sowie das notwendige Programm-Packet (MatLab-Skripte) werden auf der Veranstaltungs-Homepage

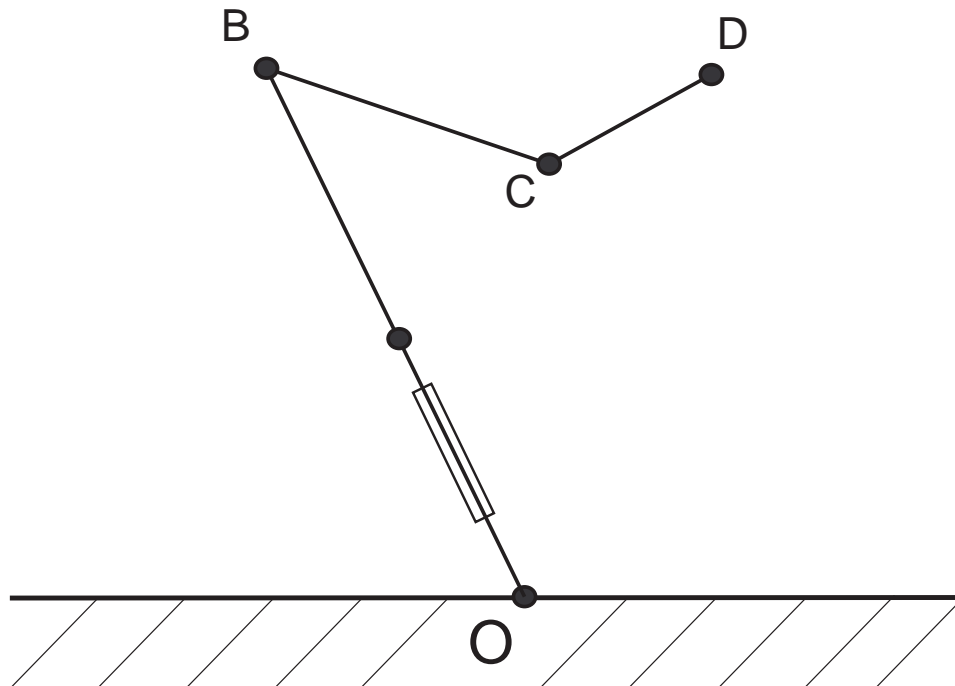
<http://www.ki.informatik.hu-berlin.de/lehre/ws0506/KogRob0506.shtml>

zur Verfügung gestellt.

---

---

Man betrachte folgendes vereinfachte Modell eines BioLoid:



- In den Punkten  $A$ ,  $B$ ,  $C$  und  $D$  sind jeweils Punktmassen  $m_a$ ,  $m_b$ ,  $m_c$  und  $m_d$  angebracht. Die Verbindungen sind masselos.
- Wir vernachlässigen die Reibung, und nehmen an, dass wir uns auf der Erde befinden;
- An den Punkten  $B$  und  $C$  sind Rotationsgelenke angebracht (wie in der [Abbildung 1](#) veranschaulicht), dadurch soll das Schultergelenk bzw. Ellenbogengelenk simuliert werden;
- Zwischen den Punkten  $O$  und  $A$  befindet sich ein Lineares Gelenk/Schiebegelenk (wie in [Abbildung 1](#) abgebildet). Damit lässt sich die Länge des „Beins“  $OA$  von  $L_{min}$  bis  $L_{max}$  verändern. Dadurch soll simuliert werden dass der Roboter in die „Hocke“ geht (ohne sich dabei zu neigen);
- Die ganze Konstruktion ist im Punkt  $O$  fest verankert (kann nicht verrutschen), kann aber kippen, sodass wir im Punkt  $O$  ebenfalls ein Rotationsgelenk annehmen können;

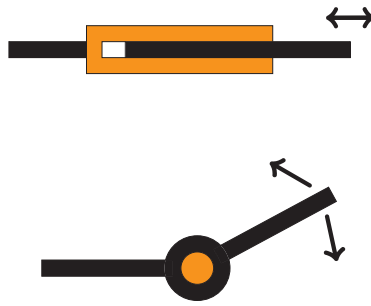
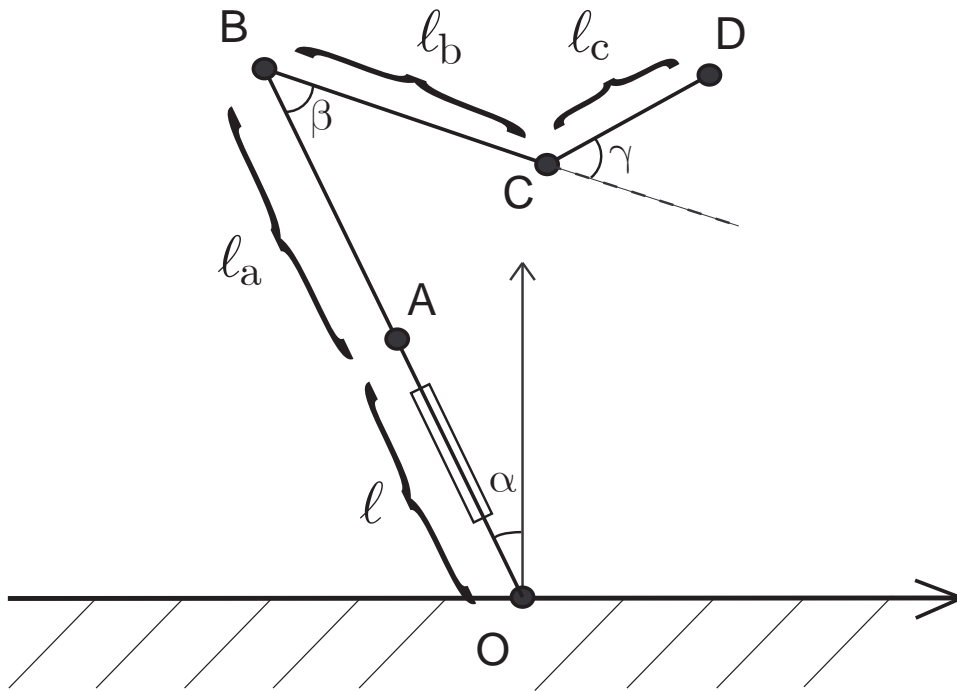


Abbildung 1: (oben) ein lineares Gelenk; (unten) ein Rotationsgelenk;

Das oben vorgestellte dynamische System kann man nun mit folgenden Größen beschreiben:



wobei  $\alpha(t)$ ,  $\beta(t)$ ,  $\gamma(t)$  und  $l(t)$  sind von der Zeit abhängige *verallgemeinerte Koordinaten*, zusammengefasst:

$$q(t) = (\alpha(t), \beta(t), \gamma(t), l(t))^T,$$

und  $l_a$ ,  $l_b$  sowie  $l_c$  sind Konstanten, die die Längen der jeweiligen Verbindungen beschreiben.

In den folgenden Aufgaben soll nun Schritt für Schritt ein Differentialgleichungssystem (DGL) aufgestellt werden, welches das dynamische Verhalten dieses Systems beschreibt.

## Aufgabe 1 (Ebenenkoordinaten)

Berechne die Positionsvektoren  $r_a(q, t)$ ,  $r_b(q, t)$ ,  $r_c(q, t)$  und  $r_d(q, t)$  der Punkte  $A$ ,  $B$ ,  $C$  und  $D$  in Kartesischen Koordinaten.

Bem.: der Ursprung des Koordinatensystems liegt im Punkt  $O$ ;

## Aufgabe 2 (Potentielle Energie)

Berechne die *potentielle Energie*  $E_{pot}$  des gesamten Systems.

Bem.: Wir nehmen an, dass wir uns auf der Erde befinden. Die Anheftungsformel für die potentielle Energie eines Massepunktes  $\lambda$  ist gegeben durch:

$$E_{pot}^\lambda := -h_\lambda \cdot F_g = -h_\lambda \cdot m_\lambda \cdot g$$

wobei  $h_\lambda$  ist die Höhe des Massepunktes über der Erde,  $m_\lambda$  seine Masse und  $g \approx 9,81 \text{ m/s}^2$  die Erdbeschleunigung. Die potentielle Energie eines Systems von Massepunkten ergibt sich dann als Summe potentieller Energie einzelner Masse-Punkte:

$$E_{pot} := \sum_\lambda E_{pot}^\lambda = -g \cdot \sum_\lambda h_\lambda \cdot m_\lambda.$$

## Aufgabe 3 (Geschwindigkeitsvektoren)

Berechne die *Geschwindigkeitsvektoren*  $v_a(\dot{q}, q, t)$ ,  $v_b(\dot{q}, q, t)$ ,  $v_c(\dot{q}, q, t)$  und  $v_d(\dot{q}, q, t)$  der Punkte  $A$ ,  $B$ ,  $C$  und  $D$ . Ein Geschwindigkeitsvektor  $v_\lambda(\dot{q}, q, t)$  des Masse-Punktes  $\lambda$  ist definiert durch

$$v_\lambda(\dot{q}, q, t) := \frac{d}{dt} (r_\lambda(q, t)),$$

und beschreibt die Geschwindigkeit des Masse-Punktes  $\lambda$ , sowie die Richtung in die er sich bewegt.

## Aufgabe 4 (Kinetische Energie)

Berechne die *kinetische Energie* des gesamten Systems.

Bem.: Die kinetische Energie eines einzelnen Masse-Punktes  $\lambda$  ist gegeben durch:

$$E_{kin}^\lambda(\dot{q}, q, t) := \frac{1}{2} m_\lambda \cdot \|v_\lambda(\dot{q}, q, t)\|^2$$

wobei  $v_\lambda(\dot{q}, q, t)$  ist der Geschwindigkeitsvektor des Punktes  $\lambda$ . Für die kinetische Energie eines Systems von Massepunkten ergibt sich dann:

$$E_{kin}(\dot{q}, q, t) := \frac{1}{2} \sum_\lambda m_\lambda \cdot \|v_\lambda(\dot{q}, q, t)\|^2.$$

## Aufgabe 5 (Euler-Lagrange-Gleichung)

Betrachte die *Lagrange-Funktion*:

$$L(\dot{q}, q, t) := E_{kin}(\dot{q}, q, t) - E_{pot}$$

und stelle für jedes  $q_j$  die entsprechende *Euler-Lagrange-Gleichung*:

$$\frac{d}{dt} \left( \frac{\partial L}{\partial \dot{q}_j} \right) - \frac{\partial L}{\partial q_j} = 0$$

auf.

## Aufgabe 6 (DGL)

Forme das in der Aufgabe 5 hergeleitete Differentialgleichungssystem (DGL) der 2-ten Ordnung in ein DGL der ersten Ordnung der Form:

$$\dot{x} = F(x(t), t)$$

mit

$$x := \begin{pmatrix} q \\ \dot{q} \end{pmatrix}.$$

## Aufgabe 7 (Simulation)

Vervollständige die Datei *dynamics.m*. Experimentiere mit unterschiedlichen Startwerten.

Bem: Die Länge der Verbindung zwischen den Punkten  $O$  und  $A$  variiert von  $L_{min} > 0$  bis  $L_{max} > L_{min}$ . Mit der obigen Konstruktion wird diese Einschränkung nicht berücksichtigt, d.h. das Lineare Gelenk zwischen  $O$  und  $A$  kann sich unendlich lang ausdehnen, bzw. negative Länge haben.

## Aufgabe 8 (3-faches Pendulum)

Überlege nun, wie man die Länge des Linearen Gelenks fixieren kann (dabei dürfen nur in der Datei *dynamics.m* Änderungen vorgenommen werden, d.h. das Modell soll entsprechend angepasst werden). Das modifizierte Modell beschreibt dann ein 3-faches Pendulum. Teste es am MatLab-Modell.

Bem.: beachte dass man die Länge  $l(t)$  nicht direkt beeinflussen kann, da nur  $\dot{l}(t)$  und  $\ddot{l}(t)$  als Rückgabeparameter zurückgegeben werden;

## Aufgabe 9 (Korrekte Simulation)

Vervollständige nun das Programm so, dass das gesamte System sich so verhält wie in Aufgabe 7, falls  $l_{min} \leq l(t) \leq l_{max}$ , aber gesichert ist dass die Grenzen  $l_{max}$  und  $l_{min}$  nicht überschritten bzw. unterschritten werden.

Tipp: beachte das die Ableitung  $\dot{l}(t)$  das Vorzeichen wechselt in Abhängigkeit davon ob das Schiebegelenk zusammengeschoben oder auseinandergezogen wird;

Viel Erfolg, und ausserdem...

**frohe Weihnachten und einen guten Rutsch ins Neue Jahr!**