

Probeklausur

Hinweise zur Klausur:

- Klausurtermin: 24. 2. 2017 um 9 Uhr (Einlass) in RUD26 0'110 und 0'115.
- Nachklausurtermin: 5. 4. 2017 um 9 Uhr (Einlass) in RUD26 0'115 (die Nachklausur kann auch ohne Teilnahme an der ersten Klausur mitgeschrieben werden).
- Anmeldung in Agnes nur mit Übungsschein (d.h. 190 Punkte in Moodle oder alter ÜS) bis 17.2.2017 (Klausur) bzw. 29.3.2017 (Nachklausur).
- Die Bearbeitungszeit wird 120 Minuten betragen.
- Bitte bringen Sie Ihren Studenten- und einen Lichtbildausweis (Personalausweis, Reisepass oder Führerschein) mit.
- Als Hilfsmittel sind eigene Notizen (auch gedruckt) und Skript erlaubt. Bücher und elektronische Geräte (Taschenrechner, Handy etc.) sind **nicht** zugelassen.
- Am 21.2.2017 ab 11.15 Uhr findet in Rud 26 0'307 eine Fragestunde statt.

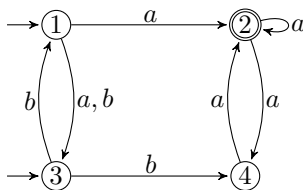
Aufgabe 1

12 Punkte

Betrachten Sie den untenstehenden NFA N .

- (a) Welche der Wörter ε , ba , $aaba$ und $bbbba$ gehören zu $L(N)$?
- (b) Wandeln Sie N mit der Potenzmengenkonstruktion in einen äquivalenten DFA um.

Hinweis: Es müssen nur erreichbare Zustände angegeben werden.

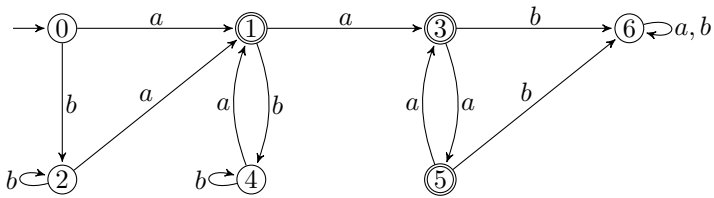


Aufgabe 2

18 Punkte

Betrachten Sie den untenstehenden DFA M mit $L(M) = L$.

- (a) Geben Sie jeweils einen möglichst kurzen regulären Ausdruck für die Sprachen $L_{0,1}^2$, $L_{1,5}^3$ und $L_{4,2}^5$ an.
- (b) Minimieren Sie M mit dem Verfahren aus der Vorlesung.
- (c) Geben Sie für jedes Wortpaar (x, y) mit $x, y \in \{\varepsilon, aaa, aba, abab, ababa\}$ an, ob $x \sim_L y$ gilt oder nicht.
- (d) Geben Sie zwei Repräsentantensysteme für die Nerode-Relation \sim_L an, die disjunkt sind.



Aufgabe 3

18 Punkte

- Zeigen Sie, dass $A = \{x^n \# x^n \mid x \in \{a, b\}^*, n \geq 0\}$ nicht regulär ist.
- Geben Sie die Pumpingzahlen bzgl. des Pumpinglemmas für reguläre Sprachen von $B = \{bbb\}^*$, $C = \{aa\}$ sowie $B \cup C$ an.
- Es seien l_D und l_E die Pumpingzahlen (bzgl. des Pumpinglemmas für reguläre Sprachen) zweier beliebiger Sprachen D und E mit endlicher Pumpingzahl. Geben Sie eine obere Schranke für die Pumpingzahl $l_{D \cup E}$ von $D \cup E$ an und begründen Sie.

Aufgabe 4

15 Punkte

Betrachten Sie die Sprache

$$L = \left\{ w \in \{a, b, c\}^* \mid \#_a(w) = \#_b(w) = \#_c(w) \text{ und} \right. \\ \left. \text{in } w \text{ steht kein } c \text{ links von einem } a \right\}.$$

Zeigen Sie, dass L kontextsensitiv ist, indem Sie eine Grammatik vom Typ 1 für L angeben.

Aufgabe 5

18 Punkte

Betrachten Sie die Grammatik $G = (\{S, X, Y\}, \{a, b\}, P, S)$ mit

$$P: \begin{aligned} S &\rightarrow SX, a \\ X &\rightarrow YS, YY, a \\ Y &\rightarrow SX, XY, b \end{aligned}$$

sowie die Wörter $w_1 = abbb$ und $w_2 = aabb$.

- Testen Sie ob w_1 bzw. w_2 in $L(G)$ sind. Führen Sie dazu den CYK-Algorithmus für ein geeignetes Wort $w_3 \in \{a, b\}^*$ der Länge 5 durch.
- Geben Sie für das in $L(G)$ enthaltene Wort w_i (mit $i \in \{1, 2\}$) einen Syntaxbaum und die zugehörige Linksableitung an.
- Ist G eindeutig? Begründen Sie.
- Geben Sie einen PDA für $L(G)$ an.

Aufgabe 6

12 Punkte

Gibt es Sprachen A und B mit folgenden Eigenschaften? Falls ja, geben Sie jeweils solche an, falls nein, begründen Sie, warum keine existieren.

- (a) $A = L(G)$ und G ist eine Typ-1-Grammatik in Chomsky-Normalform.
- (b) $A \cap B = \emptyset$, $A \leq B$ und $B \leq A$.
- (c) $A \cap B = \emptyset$, $A \not\leq B$ und $B \not\leq A$.
- (d) $A, B \subseteq \{a, b\}^*$, $A \notin \text{CFL}$, $B \in \text{REG}$, und $A \cup B$ ist regulär.

Aufgabe 7

15 Punkte

Stimmen folgende Aussagen? Begründen Sie.

- (a) Die Sprache L_1 ist entscheidbar, wobei $L_1 = \{w \in \{0, 1\}^* \mid \exists x \in \{0, 1\}^*: \text{die Ausgabe } M_w(x) \text{ hat Länge } > 0\}$.
- (b) Die Sprache L_1 ist entscheidbar, wobei $L_1 = \{w \in \{0, 1\}^* \mid \exists w' \in \{0, 1\}^*: M_w \text{ akzeptiert die Eingabe } w'\}$.
- (c) Die Sprache L_2 ist semi-entscheidbar, wobei $L_2 = \{w \in \{0, 1\}^* \mid \exists w' \in \{0, 1\}^*: M_w \text{ entscheidet die Eingabe } w'\}$.

Aufgabe 8

10 Punkte

Zeigen Sie

$$\text{VC} \leq^p \text{CLIQUE},$$

indem Sie eine Reduktionsfunktion angeben, die VC in Polynomialzeit auf CLIQUE reduziert. Begründen Sie die Korrektheit Ihrer Reduktionsfunktion.

Aufgabe 9

12 Punkte

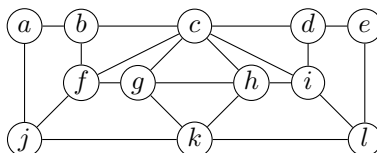
Geben Sie jeweils ein Beispiel für folgende Objekte an:

- (a) Ein GOTO-Programm P für eine injektive, aber nicht surjektive Funktion $f: \mathbb{N} \rightarrow \mathbb{N}$.
- (b) Zwei Sprachen $L, L' \subseteq \{a, b\}^*$ mit $L \neq L'$ und $\sim_L = \sim_{L'}$.
- (c) Eine PCP-Instanz I , deren kürzeste Lösung die Länge 12 hat.
- (d) Eine Sprache A , die NP-schwer und co-NP-schwer ist.

Aufgabe 10

20 Punkte

Betrachten Sie folgenden Graphen G .



(a) Bestimmen Sie folgende Parameter. Begründen Sie.

- (1) $\alpha(G) = \max\{\|S\| \mid S \text{ ist stabil in } G\}$,
- (2) $\chi(G) = \min\{k \geq 1 \mid G \text{ ist } k\text{-färbbar}\}$,
- (3) $\mu(G) = \max\{\|M\| \mid M \text{ ist ein Matching in } G\}$,
- (4) $\omega(G) = \max\{\|C\| \mid C \text{ ist eine Clique in } G\}$,
- (5) $\beta(G) = \min\{\|U\| \mid U \text{ ist eine Knotenüberdeckung in } G\}$.

(b) Wieviele Kanten müssen zu G jeweils mindestens hinzugefügt werden, um

- (1) eine Eulerlinie,
 - (2) eine Eulertour,
 - (3) einen Hamiltonpfad,
 - (4) einen Hamiltonkreis
- zu erhalten? Begründen Sie.

(c) Geben Sie einen Subgraphen von G an, der zu folgendem Graphen isomorph ist.

